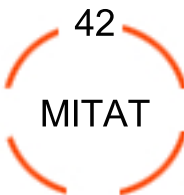
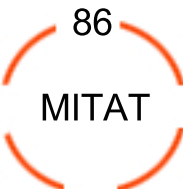
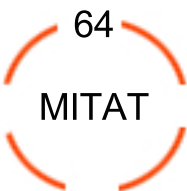
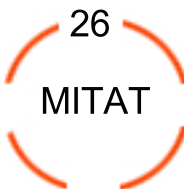
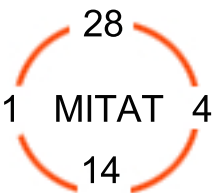


# Calcula la mitat



Nombre \_\_\_\_\_  
Fecha \_\_\_\_\_

Busca la mitat siguiendo el ejemplo



Encuentra la mitat y el doble

MITAT		DOBLE
_____	2	_____
_____	10	_____
_____	20	_____
_____	8	_____
_____	50	_____
_____	40	_____
_____	30	_____